





校長先生からの挑戦状⑫ I

次のルールにしたがって、○と×を、あいているマスに入れます。

- ① ○や×は、縦や横に、連続で3つ続いてはいけません。
- ② 縦も横も、同じ数の○×が入る。(今回は、○×それぞれ3つずつ)



校長先生からの挑戦状⑫ II

次のルールにしたがって、○と×を、あいているマスに入れます。

- ① ○や×は、縦や横に、連続で3つ続いてはいけません。
- ② 縦も横も、同じ数の○×が入る。(今回は、○×それぞれ3つずつ)

