

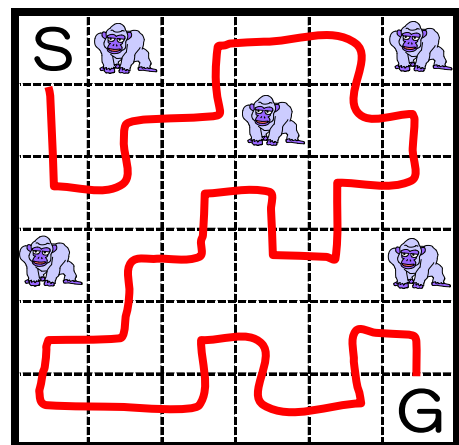
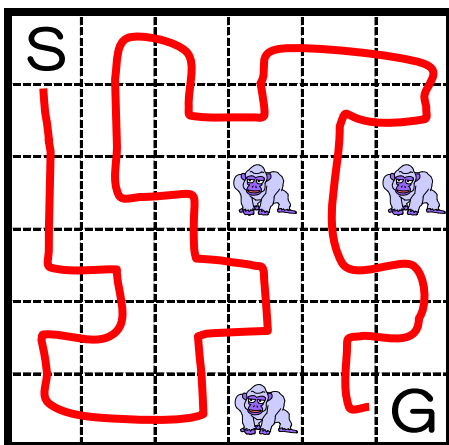
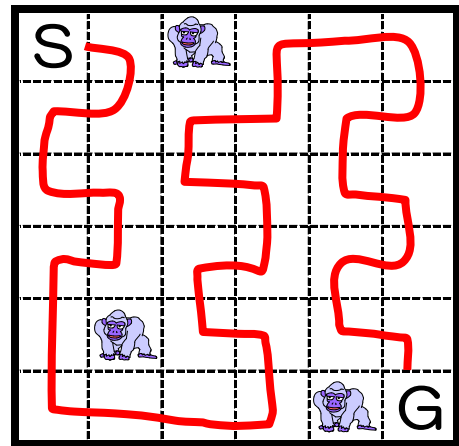
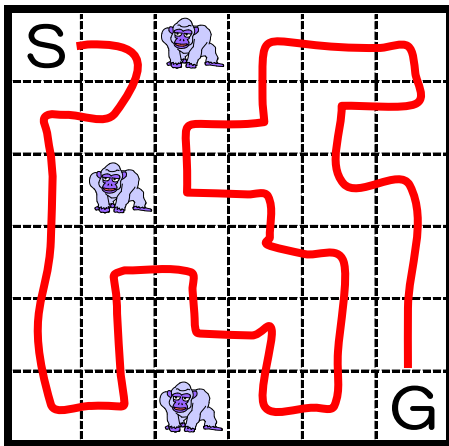




校長先生からの挑戦状⑪ III

- ① スタートからゴールまでの道順を記入します。
- ②  のいるマスは通れません。
- ③  のいないすべてのマスを通らなければなりません。
- ④ 同じマスを経由してはいけません。
- ⑤ 進む方向は、縦と横だけで、斜めには進めません。



校長先生からの挑戦状⑪ IV

- ① スタートからゴールまでの道順を記入します。
- ②  のいるマスは通れません。
- ③  のいないすべてのマスを通らなければなりません。
- ④ 同じマスを経由してはいけません。
- ⑤ 進む方向は、縦と横だけで、斜めには進めません。

