

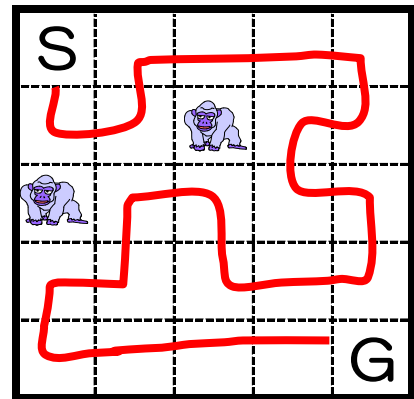
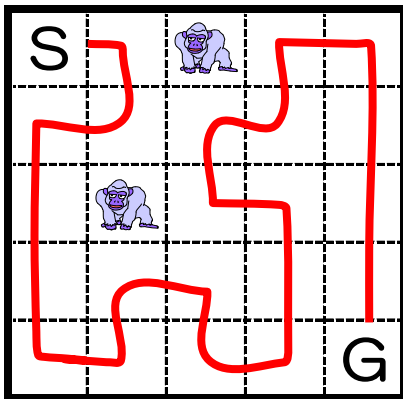
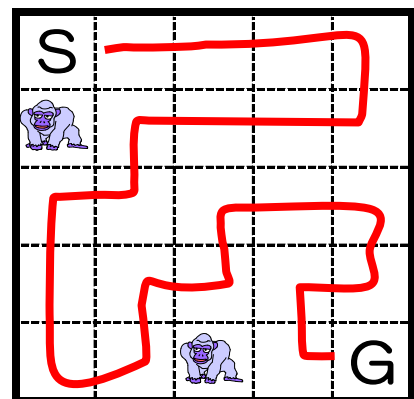
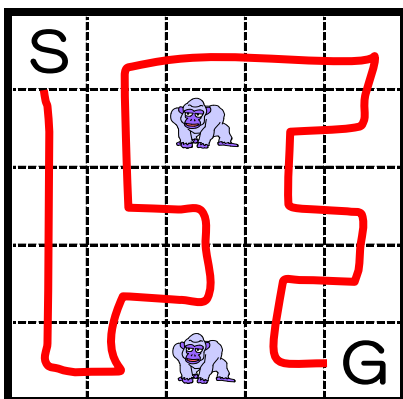


校長先生からの挑戦状⑪ I



- ① スタートからゴールまでの道順を記入します。
- ②  のいるマスは通れません。
- ③  のいないすべてのマスを通らなければなりません。
- ④ 同じマスを経由してはいけません。
- ⑤ 進める方向は、縦と横だけで、斜めには進めません。

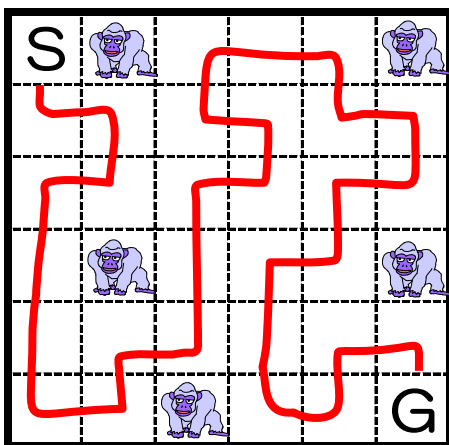
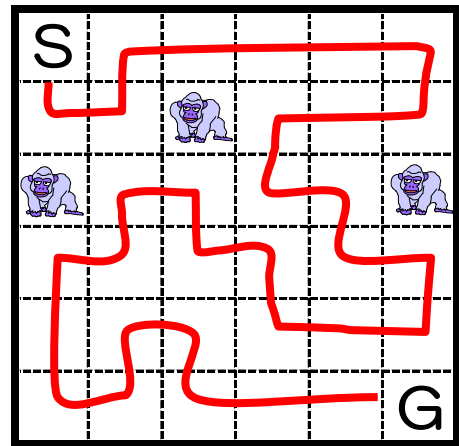
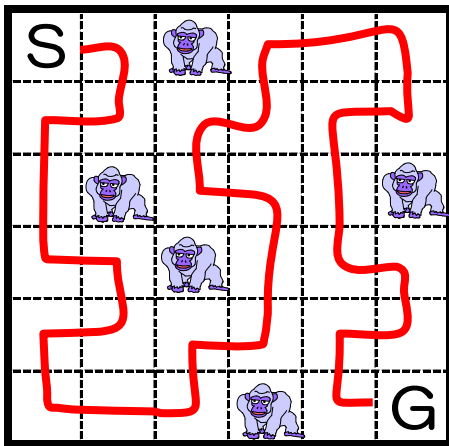


他にもあり



校長先生からの挑戦状⑪ II

- ① スタートからゴールまでの道順を記入します。
- ②  のいるマスは通れません。
- ③  のいないすべてのマスを通らなければなりません。
- ④ 同じマスを2回以上通ってはけません。
- ⑤ 進める方向は、縦と横だけで、斜めには進めません。



他にもあるかも

