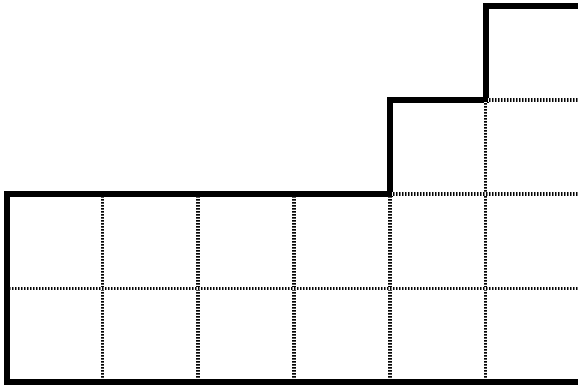
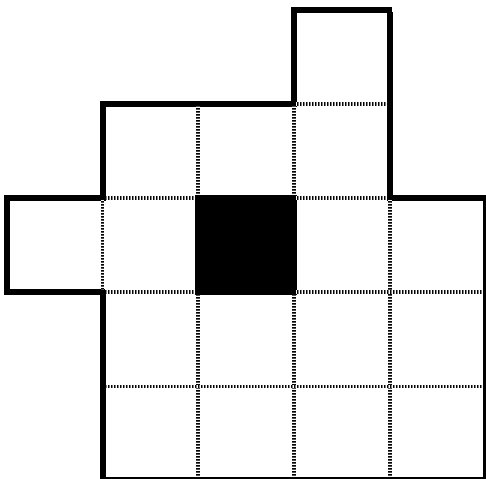


## 校長先生からの挑戦状⑩ III

次の図形を右に書かれた数に、すべて同じ大きさで同じ形になるように分けてください。形が裏返ったり回転したりしてもかまいません。



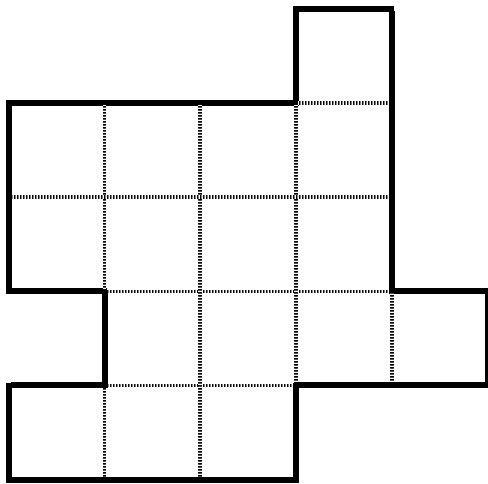
3つ



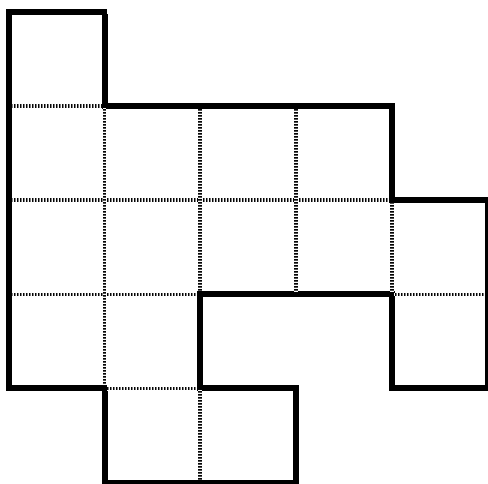
4つ

## 校長先生からの挑戦状⑩ IV

次の図形を右に書かれた数に、すべて同じ大きさで同じ形になるように分けてください。形が裏返ったり回転したりしてもかまいません。



4 つ



3 つ