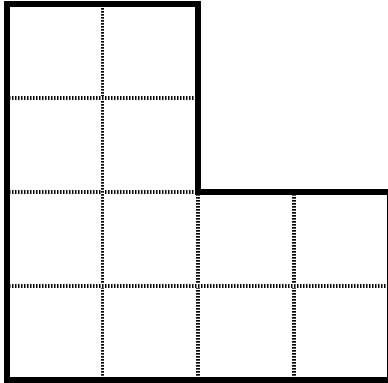
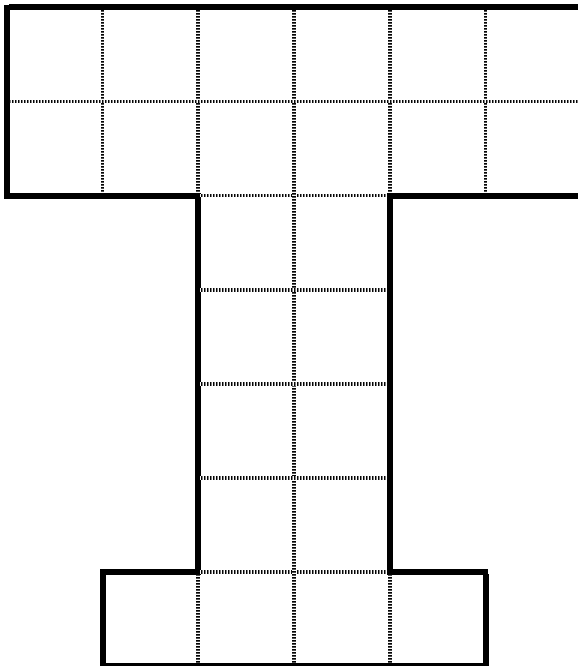


校長先生からの挑戦状⑩ I

次の図形を右に書かれた数に、すべて同じ大きさで同じ形になるように分けてください。形が裏返ったり回転したりしてもかまいません。



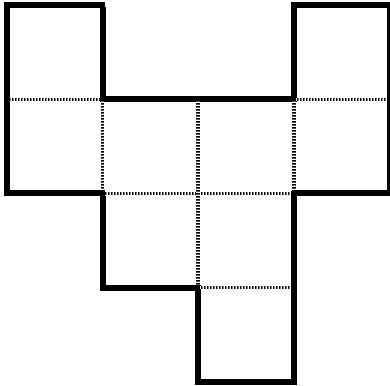
4 つ




3 つ

校長先生からの挑戦状⑩ II

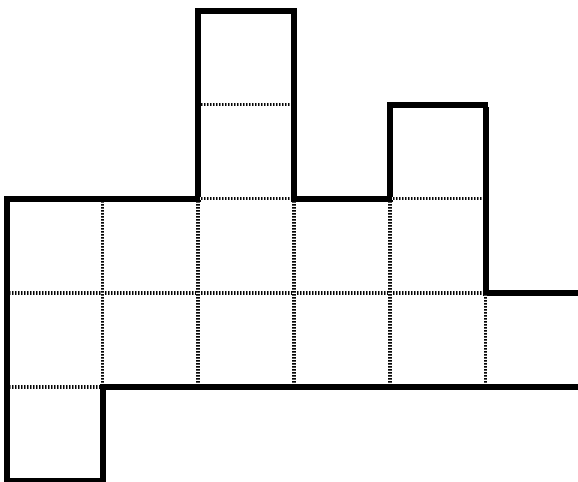
次の図形を右に書かれた数に、すべて同じ大きさで同じ形になるように分けてください。形が裏返ったり回転したりしてもかまいません。



3 つ



4 つ



3 つ