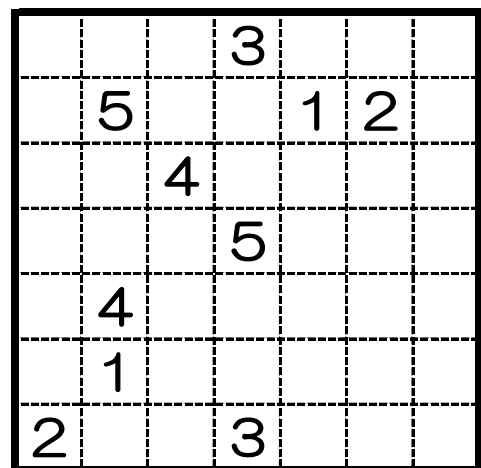
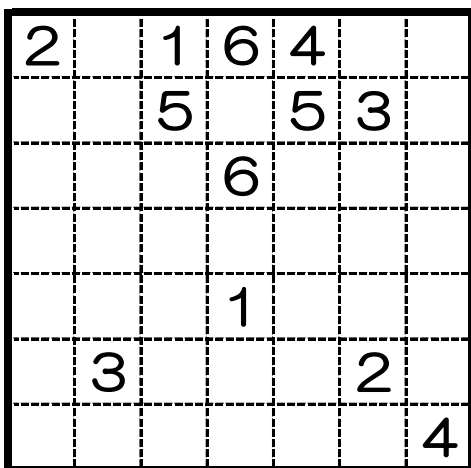
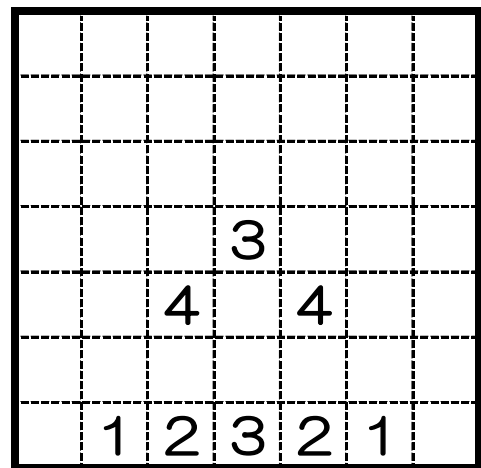
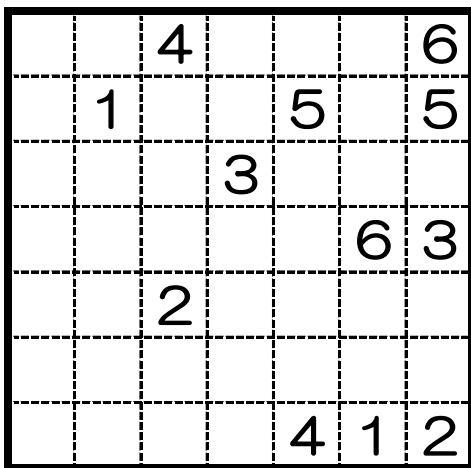


## 校長先生からの挑戦状⑦ III

- ① 同じ数字どうしを線でつなげます。
- ② 線はタテ・ヨコに引き、マスの中央を通ります。
- ③ 線は1マスに1本だけ通過できます。



## 校長先生からの挑戦状⑦ IV

- ① 同じ数字どうしを線でつなげます。
- ② 線はタテ・ヨコに引き、マスの中央を通ります。
- ③ 線は1マスに1本だけ通過できます。

